

DUM č. 19 v sadě

20. Ze-2 Evropa

Autor: Drahomír Hlaváč

Datum: 30.6.2014

Ročník: 2AV, 3AV


Anotace DUMu: Závěrečné opakování. Přírodní oblasti, hospodářství Evropy

Materiály jsou určeny pro bezplatné používání pro potřeby výuky a vzdělávání na všech typech škol a školských zařízení. Jakékoliv další využití podléhá autorskému zákonu.




INVESTICE DO ROZVOJE VZDĚLÁVÁNÍ

ZÁVĚREČNÉ OPAKOVÁNÍ I



Přírodní sféra – test I


- ▶ 1.) Která část Evropy je geologicky nejstarší?
 - ▶ 2.) Do přiložené mapky zakresli hranice litosférických desek
 - ▶ 3.) Území kterých pohoří bylo vyvrásněno Hercynským vrásněním
 - ▶ 4.) Rozděl Evropu do šesti podnebných oblastí a zaznač je do přiložené mapky
 - ▶ 5.) Jaké typy řek podle režimu v Evropě rozeznáváme?
- 

Mapka k testu I



http://cs.wikipedia.org/wiki/Evropa#mediaviewer/Soubor:Europe_topography_map.png

Obyvatelstvo a hospodářství – test II

- ▶ 1.) Do mapky zakresli oblasti s nejvyšší hustotou zalidnění
 - ▶ 2.) Co si myslíš, že ovlivňuje porodnost a úmrtnost v Evropě
 - ▶ 3.) Rozděl Evropu do hlavních typů zemědělství. Zaznač do mapky
- 



http://cs.wikipedia.org/wiki/Evropa#mediaviewer/Soubor:Europe_topography_map.png

VODSTVO	NEJVĚTŠÍ POHOŘÍ	PRŮMYSL	SLOVNÍ HRÁTKY	OBYVATELSTVO
1000	1000	1000	1000	1000
2000	2000	2000	2000	2000
3000	3000	3000	3000	3000
4000	4000	4000	4000	4000
5000	5000	5000	5000	5000

VODSTVO ZA 1000

- ▶ Kterými státy protéká Dunaj

VODSTVO ZA 2000

- ▶ Která řeka protéká hlavním městem Záhřeb

VODSTVO ZA 3000

- ▶ Poznej jezero:

Jedná se o tektonicko – ledovcového původu. Je nejhlubší v daném státě a je opředeno záhadou.

VODSTVO ZA 4000

- ▶ Vyjmenuj pět největších jezer Evropy

VODSTVO ZA 5000

- ▶ Vyjmenuj aspoň tři přítoky řeky Dunaj

NEJVĚTŠÍ POHOŘÍ ZA 1 000

- ▶ Jak se jmenuje největší vrchol Velké Británie

NEJVĚTŠÍ POHOŘÍ ZA 2000

- ▶ Která pohoří v Evropě byla vytvořena hercinským vrásněním

NEJVĚTŠÍ POHOŘÍ ZA 3000

- ▶ Kde najdeš a jak se jmenuje nejvyšší bod Španělska

NEJVĚTŠÍ POHOŘÍ ZA 4000

- ▶ Seřad' pohoří podle nejvyšších vrcholů vzestupně:

Skandinávské, Apeniny, Pyreneje, Karpaty, Alpy

NEJVĚTŠÍ POHOŘÍ ZA 5000

Na obrysovou mapu Evropy zakresli co nejvíce evropských pohoří

PRŮMYSL ZA 1 000

Která část Itálie je nejprůmyslovější

PRŮMYSL ZA 2000

- ▶ Jak se nazývá nejprůmyslovější část Německa. Jedná se o konurbaci

PRŮMYSL ZA 3000

- ▶ Která země se vyznačuje největší těžbou černého uhlí

PRŮMYSL ZA 4000

- ▶ Z kterého přístavu se vyváží kvalitní švédská železná ruda

PRŮMYSL ZA 5000

- ▶ Ve které zemi by jsi hledal společnost Ciba.
Čím se zabývá?

SLOVNÍ HRÁTKY ZA 1 000

- ▶ V přesmyčce poznej město:
SBRUCKINN

SLOVNÍ HRÁTKY ZA 2000

- ▶ Najdi ve větě hlavní město:

V zoo museli chovatelé přemístit zebra se lvi a šimpanzi do nových výběhů.

SLOVNÍ HRÁTKY ZA 3000

▶ Poznej stát:

Milan dorazil opět pozdě, jako vždy

SLOVNÍ HRÁTKY ZA 4000

- ▶ Vyber správná písmena a poskládej hlavní město:

PSLODKRGROFFRJICHA

SLOVNÍ HRÁTKY ZA 5000

- ▶ Vymysli tři věty, kde budou ukryty evropské řeky

OBYVATELSTVO ZA 1 000

- ▶ Jakými úředními jazyky se mluví ve Švýcarsku?

OBYVATELSTVO ZA 2000

- ▶ Ve kterých státech žijí Sámové

OBYVATELSTVO ZA 3000

- ▶ Kde se nachází separatistická Podněsterská republika. Jaké národnosti je převážně její obyvatelstvo

OBYVATELSTVO ZA 4000

- ▶ Které národnostní menšiny usilují ve Španělsku o autonomii

OBYVATELSTVO ZA 5000

- ▶ Jaké náboženství převažuje v Bosně a Hercegovině

Zdroje

- ▶ Pavel Kantorek, Sylvie Mikulcová, Zeměpis II. v kostce, Fragment, 2008, ISBN 978-80-253-0585-0
- ▶ Jeřábek Milan, Anděl Jiří, Peštová Jana, Kastner Jiří, Zeměpis 8 pro ZŠ a VG UČ, Fraus, ISBN 978-80-7238-517-1
- ▶ Školní atlas světa, Kartografie Praha, 2012, ISBN 9788073930745
- ▶ [http://
cs.wikipedia.org/wiki/Evropa#mediaviewer/Soubor:Europe_topography_map.png](http://cs.wikipedia.org/wiki/Evropa#mediaviewer/Soubor:Europe_topography_map.png)