

DUM č. 13 v sadě

19. Ze-1 Fyzická a socioekonomická geografie Země

Autor: Lukáš Plachý

Datum: 20.06.2013

Ročník: 1C, 2AF, 2BF

Anotace DUMu: Soutěž Zeměpisák: otázky z fyzické a socioekonomické sféry

Materiály jsou určeny pro bezplatné používání pro potřeby výuky a vzdělávání na všech typech škol a školských zařízení. Jakékoliv další využití podléhá autorskému zákonu.



INVESTICE DO ROZVOJE VZDĚLÁVÁNÍ

jméno autora výukového materiálu	Mgr. Lukáš Plachý
datum (období), ve kterém byl VM vytvořen	květen 2013
ročník, pro který je výukový materiál určen	1. ročník
vzdělávací oblast, vzdělávací obor, tematický okruh, téma (Ize konkretizovat např. klíčovými slovy)	Člověk a příroda, Zeměpis, fyzická a socioekonomická sféra
metodický list/anotace – výstižný popis způsobu použití výukového materiálu ve výuce	Soutěžní hra. Žák pomocí ukazovátka vybírá otázky, na které odpovídá příslušná skupinka žáků. Vše je připraveno na interaktivní tabuli. Každé skupince se přičítají body



Soutěž zeměpisák III

VSTUP

ATMOSFÉRA	1000	2000	3000	4000
	5000	6000	7000	8000
HYDROSFÉRA	1000	2000	3000	4000
	5000	6000	7000	8000
ZEMĚDĚLSTVÍ	1000	2000	3000	4000
	5000	6000	7000	8000
PRŮMYSL	1000	2000	3000	4000
	5000	6000	7000	8000

A)

B)

C)

1000

Poznej přístroj



SRÁŽKOMĚR

A)

B)

C)



2000

Poznej přístroj



BAROMETR

A)

B)

C)



3000

Poznej přístroj



ANEMOMETR

A)

B)

C)



4000

Poznej přístroj



HYGROMETR

A)

B)

C)



5000

Která z pěti sfér, obsahuje ozonovou vrstvu



STRATOSFÉRA

A)

B)

C)



6000

Které čtyři základní plyny obsahuje vzduch



N, O₂, CO₂, Ar

A)

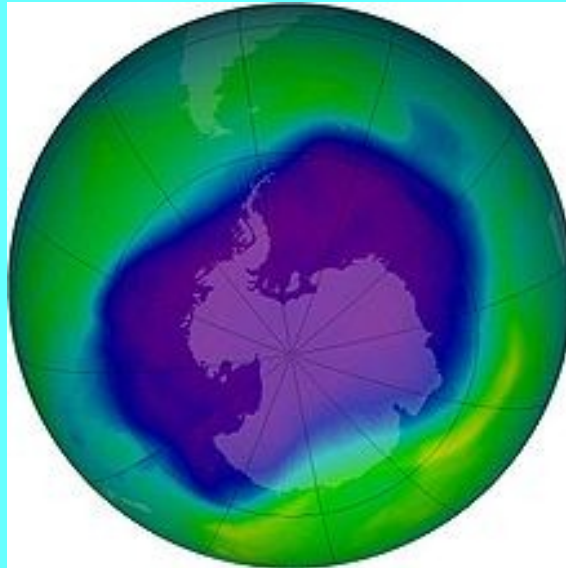
B)

C)



7000

V jakých jednotkách se měří množství ozonu



DU – Dobsonova jednotka

A)

B)

C)



8000

Podle vlnové délky patří infračervené záření mezi?



DLOUHOVLNNÉ

A)

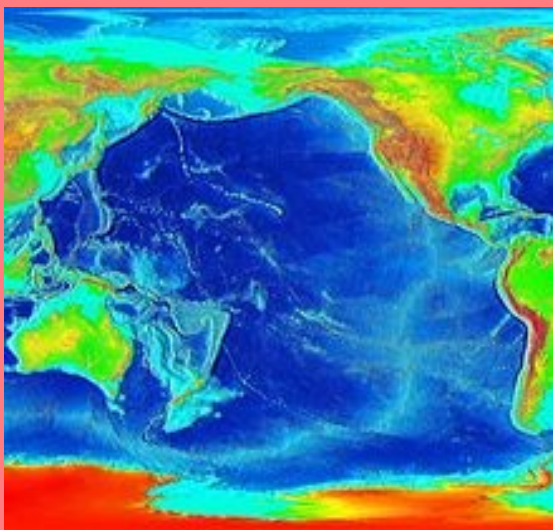
B)

C)



1000

Vyjmenuj 5 světových oceánů



**PACIFIK, ATLANTIK, INDICKÝ,
JIŽNÍ, SEVERNÍ LEDOVÝ**

A)

B)

C)



2000

Jakou výměru má vodní plocha na planetě Zemi



361 mil km²

A)

B)

C)



3000

Jak se jmenuje teplý proud, který ovlivňuje podnebí Jižní Ameriky



BRAZILSKÝ

A)

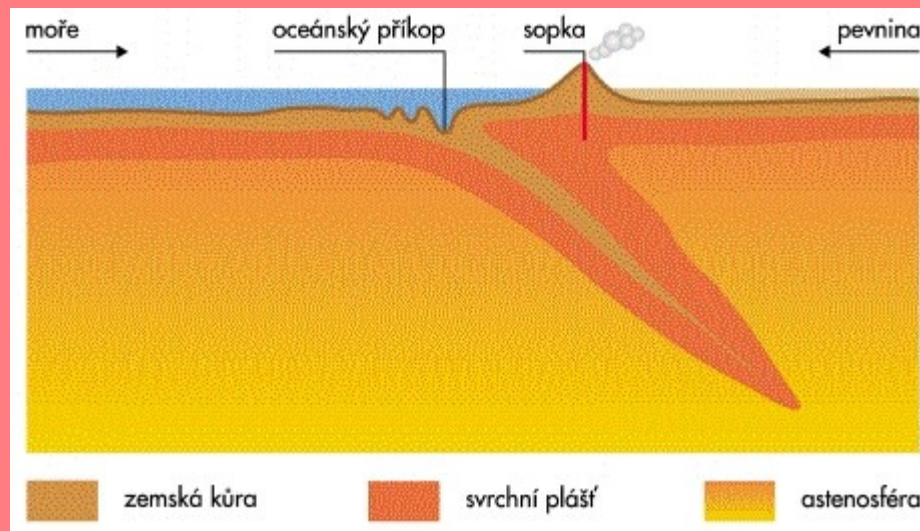
B)

C)



4000

Název nejhlubšího místa světa, jeho
hloubka a oceán



**MARIÁNSKÝ PŘÍKOP
(10924m), PACIFIK**

A)

B)

C)



5000

Popiš koloběh vody



**VÝPAR, KONDENZACE, SUBLIMACE,
SRÁŽKY, VSAKOVÁNÍ, ODTOK**

A)

B)

C)



6000

Vysvětli sněžnou čáru a uveď správné příklady ve světě



Hranice, od které se celoročně drží sních (Alpy – 3000m)

A)

B)

C)



7000

Vysvětli pojem salinita, jeho jednotky a příklad ve světě



**SLANOST VODY, g/L,
35 ‰**

A)

B)

C)



8000

Co označujeme jako brakickou vodu



**SLADKOU VODU
VYTÉKAJÍCÍ Z
PEVNINY DO
SLANÉHO MOŘE**

A)

B)

C)



1000

Poznej plodinu



BAVLNÍK

A)

B)

C)



2000

Poznej plodinu



SKOŘICE

A)

B)

C)



3000

Poznej plodinu



LIČI

A)

B)

C)



4000

Poznej plodinu



KAUČUKOVNÍK

A)

B)

C)



5000

Vyjmenuj 5 obilovin



**PŠENICE, KUKUŘICE, RÝŽE, JEČMĚN,
ŽITO, OVES**

A)

B)

C)



6000

Který stát chová nejvíce prasat na světě



ČÍNA

A)

B)

C)



7000

Které neasijské státy jsou mezi první pětkou států v rybolovu



PERU, CHILE

A)

B)

C)



8000

Vyjmenuj způsoby zemědělské výroby

PŘÍMĚSTSKÉ ZEMĚDĚLSTVÍ
INTENZIVITA
EXTENZIVITA
SAMOZÁSOBITELSTVÍ
ALPSKÝ TYP
PLANTÁŽNICTVÍ
ZÁVLAHOVÉ ZEMĚDĚLSTVÍ

A)

B)

C)



1000

Poznej automobilku



AUDI

A)

B)

C)



2000

Poznej automobilku



BENTLEY

A)

B)

C)



3000

Poznej automobilku



MITSUBISHI

A)

B)

C)



4000

Poznej leteckou spoločnosť



AIRBUS

A)


B)

C)



5000

Poznej největší elektrárnu Asie a řekni na čem se nachází



TŘI SOUTĚSKY, CHANG JIANG

A)

B)

C)



6000

Řekni 3 největší producenti uhlí na světě



ČÍNA, USA, INDIE

A)

B)

C)



7000

OPEC je organizace spojená s kterou nerostou surovinou, uveď 5 členů



ROPA

S.A.E, S.A., KUV, KAT, IRAK, IRAN,
VEN, EKV, LIB, ALŽ, ANG, NIG

A)

B)

C)



8000

Vysvětli pojem Asijské tygři, uveď 4 příklady

NOVĚ ZPRŮMYSLNĚNÉ
ZEMĚ JV ASIE
J.KOREA
SINGAPUR
MALAJSIE
HONGKONG
TAIWAN
FILIPÍNY

A)

B)

C)



ZDROJE INFORMACÍ

- 1) http://www.meteoobchod.cz/data/blob/shop_products-image_jpeg-20101113060516-2240-471001.jpg.thumb
- 2) <http://www.ales-kalina.cz/wp-content/uploads/2013/04/barometer1.jpg>
- 3) <http://www.vedanasbavi.cz/obrazky/1352918443.jpg>
- 4) http://www.reloadng-solar.cz/image/cache/data/melia/Naradi/BATT-222111/vlhkomer-lockdown-hygrometer-u-0_jpg_big-5
- 5) http://www.pe.cz/upload/Image/Energie%20a%20sluzby/stlaceny%20vzduch/vzduch_2.jpg
- 6) http://i.idnes.cz/10/021/cl6/JW30dbfa_ozon2007.JPG
- 7) <http://compex.zdravi-cz.eu/images/ir-zareni.jpg>
- 8) http://upload.wikimedia.org/wikipedia/commons/thumb/b/be/Pacific_elevation.jpg/220px-Pacific_elevation.jpg
- 9) http://oskole.sk/userfiles/image/prirodoveda/oceany_a_moria/image001.png
- 10) <http://projects.czu.cz/EF/img/obr7p1.jpg>
- 11) http://leccos.com/pics/pic/subdukzni_oblast.jpg
- 12) http://blogy.in-pocasi.eu/pocasi-krumlov/obrazky/b598611566_47346205_o2.jpg
- 13) http://geologie.vsb.cz/geomorfologie/Prednasky/10_obrazky/Obr_10_16_ledovec_Gronsko.jpg
- 14) <http://i.iinfo.cz/rs2/374/Mrtve-more-516.jpg>
- 15) http://eoimages.gsfc.nasa.gov/images/imagerecords/2000/2704/landsat_art_lena_lrg.jpg
- 16) <http://files.janabubu.webnode.cz/200000126-0562c065d2/rolf-nussbaumer-cotton-plant-lubbock-panhandle-texas.jpg>
- 17) http://www.nazeleno.cz/Files/ResizedImages/obrazky/Potraviny/Skořice/perex_329x-1_1002031416.jpg
- 18) <http://www.ireceptar.cz/res/data/088/010847.jpg>
- 19) <http://www.baumrukrphoto.cz/data/catalog/1123---.jpg>
- 20) <http://www.astrolife.cz/wp-content/uploads/2012/02/obili.jpg>
- 21) <http://www.inzahrada.cz/pic/prase.jpg>
- 22) http://i.lidovky.cz/11/122/lngal/PTA3fe437_rybolov_3.jpg
- 23) http://www.armino.ro/wp-content/uploads/2009/09/audi_logo.jpg
- 24) <http://www.carlogos.org/uploads/carlogos/bentley-logo-3.jpg>
- 25) <http://www.allympics.cz/wp-content/uploads/2012/03/3.png>
- 26) http://www.airways.cz/images/novinky/airbus_a380_1.jpg
- 27) http://cina.esotravel.cz/img/clanky/aac3fac5ff_61086188_o2-85.jpg
- 28) http://upload.wikimedia.org/wikipedia/commons/c/c4/Mineral_Antracita_GDFL001.JPG
- 29) <http://starfm.co.ke/wp-content/uploads/2011/08/OPEC1.jpg>