

DUM č. 10 v sadě

20. Ze-2 Evropa

Autor: Drahomír Hlaváč

Datum: 30.6.2014

Ročník: 2AV, 3AV

Anotace DUMu: Evropa. Jižní Evropa. Geografická charakteristika států J Evropy. Kvíz.


Materiály jsou určeny pro bezplatné používání pro potřeby výuky a vzdělávání na všech typech škol a školských zařízení. Jakékoliv další využití podléhá autorskému zákonu.




INVESTICE DO ROZVOJE VZDĚLÁVÁNÍ

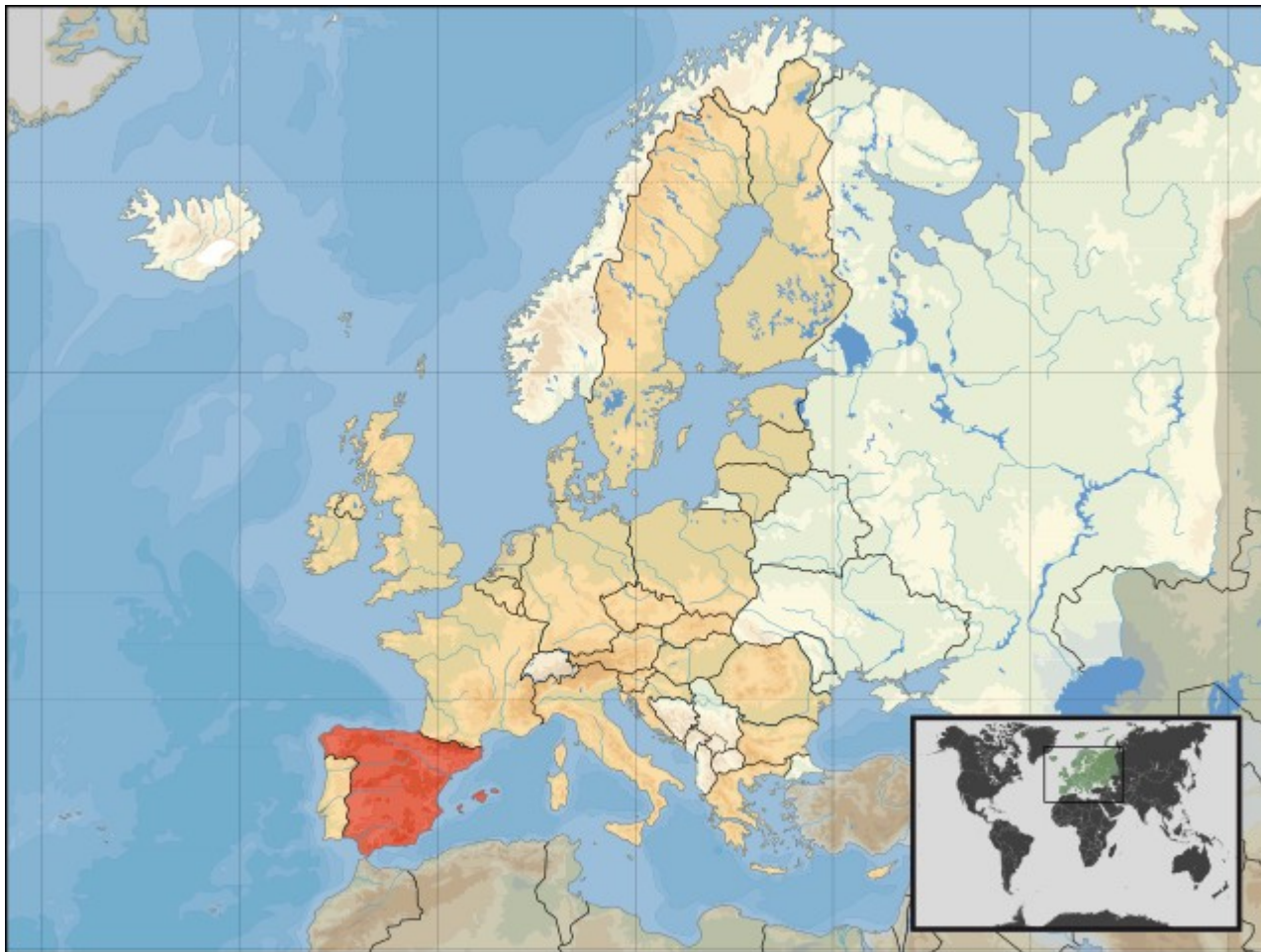
JIŽNÍ EVROPA



- ▶ státy rozkládající se na ostrovech a poloostrovech jižní Evropy
 - ▶ centrum antických říší
 - ▶ společné rysy – ráz reliéfu, podnebí, rostlinstvo
 - ▶ vulkanická činnost, zemětřesení
- 

Španělsko

- ▶ Urči zeměpisné souřadnice hlavního města
 - ▶ Jaká měna se v zemi používá?
 - ▶ Vyhledej nejvyšší vrchol území
 - ▶ Které ostrovy jsou součástí státu
- 




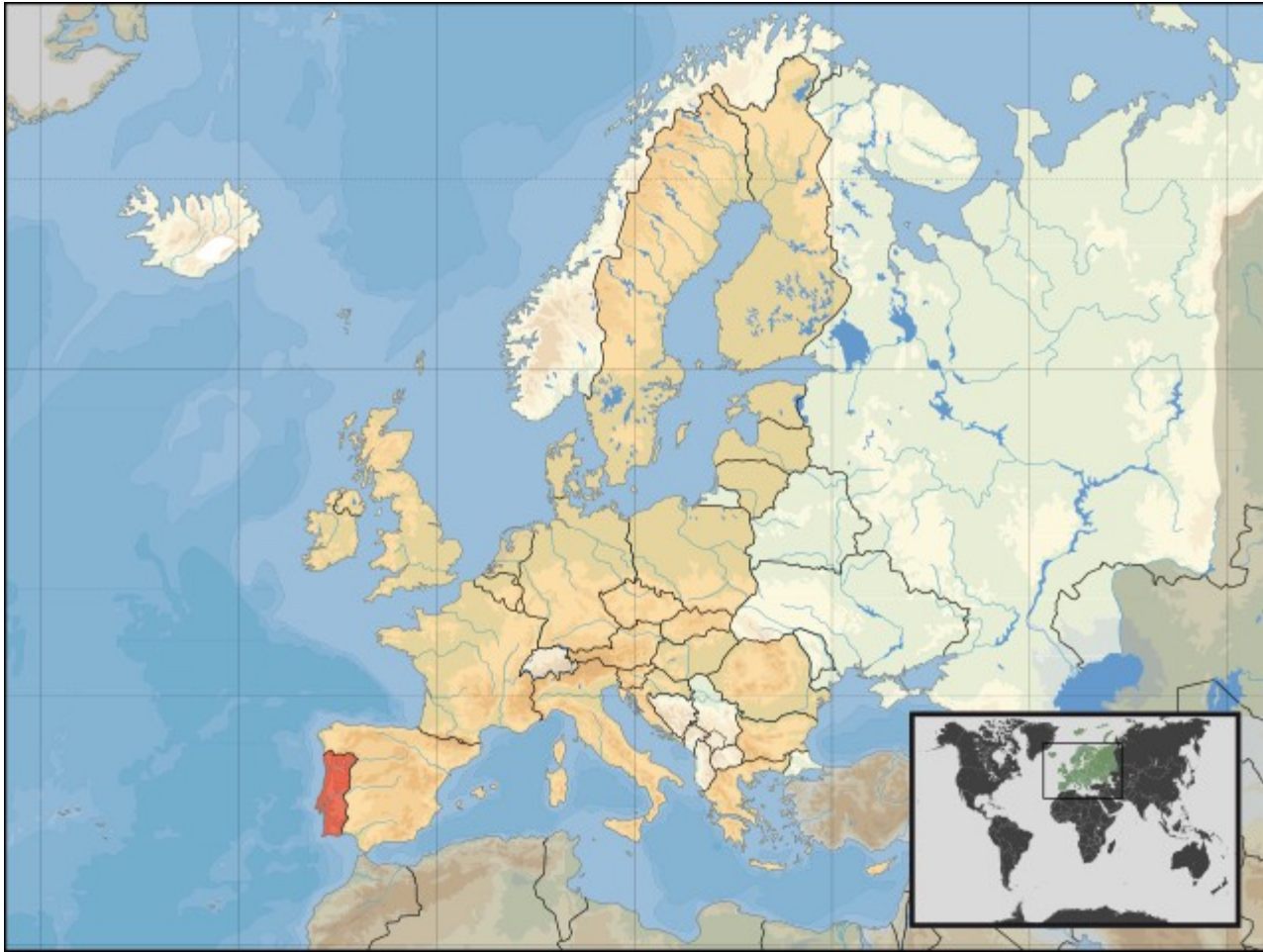
[http://cs.wikipedia.org/wiki/%C5%A0pan
%C4%9Bsko#mediaviewer/Soubor:EU_location_ESP.svg](http://cs.wikipedia.org/wiki/%C5%A0pan%C4%9Bsko#mediaviewer/Soubor:EU_location_ESP.svg)



[http://cs.wikipedia.org/wiki/%C5%A0pan
%C4%9Bsko#mediaviewer/Soubor:Flag_of_Spain.svg](http://cs.wikipedia.org/wiki/%C5%A0pan%C4%9Bsko#mediaviewer/Soubor:Flag_of_Spain.svg)

Portugalsko

- ▶ Urči zeměpisné souřadnice hlavního města
 - ▶ Jaká měna se v zemi používá?
 - ▶ Vyhledej nejvyšší vrchol území
 - ▶ Které ostrovy jsou součástí státu
- 




http://cs.wikipedia.org/wiki/Portugalsko#mediaviewer/Soubor:EU_location_POR.svg




http://cs.wikipedia.org/wiki/Portugalsko#mediaviewer/Soubor:Flag_of_Portugal.svg

Itálie

- ▶ Urči zeměpisné souřadnice hlavního města
 - ▶ Jaká měna se v zemi používá?
 - ▶ Vyhledej nejvyšší vrchol území
 - ▶ Které ostrovy jsou součástí státu
- 




[http://cs.wikipedia.org/wiki/It
%C3%A9#mediaviewer/Soubor:EU_location_ITA.svg](http://cs.wikipedia.org/wiki/It%C3%A9#mediaviewer/Soubor:EU_location_ITA.svg)



[http://cs.wikipedia.org/wiki/It
%C3%A1lie#mediaviewer/Soubor:Flag_of_Italy.svg](http://cs.wikipedia.org/wiki/It%C3%A1lie#mediaviewer/Soubor:Flag_of_Italy.svg)

Řecko

- ▶ Urči zeměpisné souřadnice hlavního města
 - ▶ Jaká měna se v zemi používá?
 - ▶ Vyhledej nejvyšší vrchol území
 - ▶ Které ostrovy jsou součástí státu
- 



[http://cs.wikipedia.org/wiki/
%C5%98ecko#mediaviewer/Soubor:EU_location_GRE.svg](http://cs.wikipedia.org/wiki/%C5%98ecko#mediaviewer/Soubor:EU_location_GRE.svg)



[http://cs.wikipedia.org/wiki/
%C5%98ecko#mediaviewer/Soubor:Flag_of_Greece.svg](http://cs.wikipedia.org/wiki/%C5%98ecko#mediaviewer/Soubor:Flag_of_Greece.svg)

GEOGRAFIE	HOSPODÁŘSTVÍ	HISTORIE	RŮZNÉ
1000	1000	1000	1000
2000	2000	2000	2000
3000	3000	3000	3000
4000	4000	4000	4000
5000	5000	5000	5000
6000	6000	6000	6000

GEOGRAFIE ZA 1000

Se kterými státy sousedí Španělsko
(odpovídej bez atlasu)

GEOGRAFIE ZA 2000

Na papír nakresli tvar státu Itálie. Včetně
přilehlých italských ostrovů

GEOGRAFIE ZA 3000

Chceme vědět nejvyšší vrcholy a nadmořské výšky těchto států:

- a) Španělsko
- b) Itálie

GEOGRAFIE ZA 4000

Jak se nazývá největší ostrov Řecka a jakou má rozlohu?

GEOGRAFIE ZA 5000

Ve které zemi najdeš pahorkatinu Alentejo?

GEOGRAFIE ZA 6000

Který stát jižní Evropy má nejvyšší roční úhrn srážek?

HOSPODÁŘSTVÍ ZA 1 000

Která část Itálie je nejprůmyslovější

HOSPODÁŘSTVÍ ZA 2000

Uved' alespoň tři automobilky pocházející ze zemí jižní Evropy

HOSPODÁŘSTVÍ ZA 3000

Uved' největší přístav Španělska

HOSPODÁŘSTVÍ ZA 4000

Ve kterém roce zasáhla Řecko (jakož i celý svět) velká hospodářská krize

Hospodářství za 5000

Seřad' státy jižní Evropy podle HDP od nejbohatšího k nejchudšímu

HOSPODÁŘSTVÍ ZA 6000

Ve kterém roce (letech) přistoupily jednotlivé země do EU

HISTORIE ZA 1000

Na území kterých států bylo centrum antické kultury

HISTORIE ZA 2000

Poznej z obrázku o jakou pamětihodnost jde.
Ve kterém městě ji najdeš



HISTORIE ZA 3000

Ve kterém roce zanikla Západořímská říše

HISTORIE ZA 4000

Jak se jmenuje dosud nedokončené Gaudího dílo, chrám, v Barceloně.

HISTORIE ZA 5000

Ve kterém roce došlo ke sjednocení Itálie.

HISTORIE ZA 6000

Který portugalský mořeplavec poprvé obeplul jižní břehy Afriky

RŮZNÉ ZA 1000

Který jihoevropský stát naposledy vyhrál MS ve fotbale

RŮZNÉ ZA 2000

Chceme slyšet jméno královské rodiny
vládnoucí ve Španělsku

RŮZNÉ ZA 3000

Jak se jmenuje současný italský prezident

RŮZNÉ ZA 4000

Která jihoevropská země má nejvyšší
negrarnotnost

RŮZNÉ ZA 5000

Ve kterém roce byla obsazena severní část
ostrova Kypr Tureckými vojsky

RŮZNÉ ZA 6000

Kde sídlí známá španělská automobilka SEAT

Zdroje

- ▶ Pavel Kantorek, Sylvie Mikulcová, Zeměpis II. v kostce, Fragment, 2008, ISBN 978-80-253-0585-0
- ▶ Jeřábek Milan, Anděl Jiří, Peštová Jana, Kastner Jiří, Zeměpis 8 pro ZŠ a VG UČ, Fraus, ISBN 978-80-7238-517-1
- ▶ Školní atlas světa, Kartografie Praha, 2012, ISBN 9788073930745
- ▶ http://cs.wikipedia.org/wiki/%C5%A0pan%C4%9Blsko#mediaviewer/Soubor:EU_location_PAN.svg
- ▶ http://cs.wikipedia.org/wiki/%C5%A0pan%C4%9Blsko#mediaviewer/Soubor:Flag_of_Poland.svg
- ▶ http://cs.wikipedia.org/wiki/Portugalsko#mediaviewer/Soubor:EU_location_POR.svg
- ▶ http://cs.wikipedia.org/wiki/Portugalsko#mediaviewer/Soubor:Flag_of_Portugal.svg
- ▶ http://cs.wikipedia.org/wiki/It%C3%A1lie#mediaviewer/Soubor:EU_location_ITA.svg
- ▶ http://cs.wikipedia.org/wiki/It%C3%A1lie#mediaviewer/Soubor:Flag_of_Italy.svg

Zdroje

- ▶ http://cs.wikipedia.org/wiki/%C5%98ecko#mediaviewer/Soubor:EU_location_GRE.svg
- ▶ http://cs.wikipedia.org/wiki/%C5%98ecko#mediaviewer/Soubor:Flag_of_Greece.svg
- ▶ http://cs.wikipedia.org/wiki/Font%C3%A1na_di_Trevi#mediaviewer/Soubor:Trevi_Fo