

## DUM č. 11 v sadě

### 20. Ze-2 Evropa

Autor: Drahomír Hlaváč

Datum: 30.6.2014

Ročník: 2AV, 3AV


Anotace DUMu: Jihovýchodní Evropa. Geografická charakteristika států Jihovýchodní Evropy.


Materiály jsou určeny pro bezplatné používání pro potřeby výuky a vzdělávání na všech typech škol a školských zařízení. Jakékoliv další využití podléhá autorskému zákonu.



INVESTICE DO ROZVOJE VZDĚLÁVÁNÍ


# JIHOVÝCHODNÍ EVROPA




- ▶ státy ležící na Balkánském poloostrově – balkánské
  - ▶ nevýhodná poloha – daleko od hlavní evropské rozvojové osy
  - ▶ hornatý povrch
  - ▶ převažuje vnitrozemské podnebí
  - ▶ při pobřeží středomořský typ podnebí
  - ▶ obyvatelstvo převážně Slované
  - ▶ Rumuni – národ románský
- 

- ▶ nejméně rozvinutá oblast Evropy
- ▶ 1990 – 1992 rozpad Jugoslávie:
  - nástupnické státy – Slovinsko, Chorvatsko, Bosna a Hercegovina, Srbsko, Černá Hora, Makedonie


# Slovensko

- ▶ **Vyhledej hlavní město:**
  - ▶ hospodářsky nejvyspělejší stát z bývalé Jugoslávie
  - ▶ průmysl – zpracování dovezených surovin
  - ▶ turisticky navštěvované Alpy, krasové jeskyně a moře
- 

# Chorvatsko

- ▶ **Vyhledej hlavní město:**
  - ▶ pobřežní část tvoří Dalmácie
  - ▶ katolíci
  - ▶ průmysl potravinářský, chemický – výroba léčiv
  - ▶ významné turistické letovisko
  - ▶ **Vyhledej 3 větší ostrovy náležící Chorvatsku**
- 

# Bosna a Hercegovina

- ▶ **Vyhledej hlavní město:**
  - ▶ hornatá krajina
  - ▶ tragické následky během občanské války v 90. letech 20. století
  - ▶ národnostní a náboženská pestrost
  - ▶ nízká úroveň hospodářství
- 

# Černá Hora


- ▶ **Vyhledej hlavní město:**
- ▶ nezávislost od roku 2006
- ▶ malý hornatý stát
- ▶ důležitá role cestovního ruchu




# Srbsko

- ▶ **Vyhledej hlavní město:**
- ▶ vnitrozemský stát
- ▶ Srbové, Černohorci, Albánci, Maďaři
- ▶ textilní a chemický průmysl
- ▶ zemědělství – Vojvodina


# Makedonie

- ▶ **Vyhledej hlavní město:**
  - ▶ patří mezi izolované země
  - ▶ nízká životní úroveň
  - ▶ národnostní menšiny Albánců, Turků
  - ▶ zemědělská oblast podél řeky Vardar
- 

# Albánie

- ▶ jedna z nejzaostalejších zemí Evropy
  - ▶ islám
  - ▶ nejvyšší přirozený přírůstek v Evropě
  - ▶ rozvojová země
  - ▶ převaha venkovského obyvatelstva
  - ▶ tabák a ovoce
- 

# Bulharsko

- ▶ Urči zeměpisné souřadnice hlavního města
  - ▶ Jaká měna se v zemi používá?
  - ▶ Vyhledej nejvyšší vrchol území
  - ▶ Se kterými zeměmi má stát hranici
- 

# Vyber správnou odpověď

**Která z možností se netýká Bulharska**

A je přímořský stát

B hraničí s pěti státy

C patří mezi nechudší státy Evropy

D je jedním ze států EU

## Bulharsko se rozkládá

A na jihu Balkánského poloostrova

B na východě Balkánského poloostrova

C ve středu Balkánského poloostrova

D na severu Balkánského poloostrova


# Středem Bulharska se táhne pohoří

A Stará planina

B Karpaty

C Apeninské pohoří

D Apuseny



Významným bulharským přístavem je

A Umag

B Split

C Soluň

D Varna



# Obyvatelé Bulharska vyznávají převážně

A pravoslavné náboženství a islám


B judaismus

C římsko – katolické náboženství

D řecko – katolické náboženství



# Rumunsko

- ▶ Urči zeměpisné souřadnice hlavního města
  - ▶ Jaká měna se v zemi používá?
  - ▶ Vyhledej nejvyšší vrchol území
  - ▶ Se kterými zeměmi má stát hranici
- 



Transylvánie

Přístav  
Constanta

Pěstování  
kukuřice - 2.  
místo v Evropě

Karpaty

Dacia

Soud s Čadem  
o podobu  
vlajky

# Zdroje

- ▶ Pavel Kantorek, Sylvie Mikulcová, Zeměpis II. v kostce, Fragment, 2008, ISBN 978-80-253-0585-0
- ▶ Jeřábek Milan, Anděl Jiří, Peštová Jana, Kastner Jiří, Zeměpis 8 pro ZŠ a VG UČ, Fraus, ISBN 978-80-7238-517-1
- ▶ Školní atlas světa, Kartografie Praha, 2012, ISBN 9788073930745
- ▶ [http://  
cs.wikipedia.org/wiki/Rumunsko#mediaviewer/Soubor:Flag\\_of\\_Romania.svg](http://cs.wikipedia.org/wiki/Rumunsko#mediaviewer/Soubor:Flag_of_Romania.svg)