

## DUM č. 16 v sadě

### 20. Ze-2 Evropa

Autor: Drahomír Hlaváč

Datum: 30.6.2014

Ročník: 2AV, 3AV

Anotace DUMu: Orientace II. Slepá mapa Evropy varianta B.

Materiály jsou určeny pro bezplatné používání pro potřeby výuky a vzdělávání na všech typech škol a školských zařízení. Jakékoliv další využití podléhá autorskému zákonu.

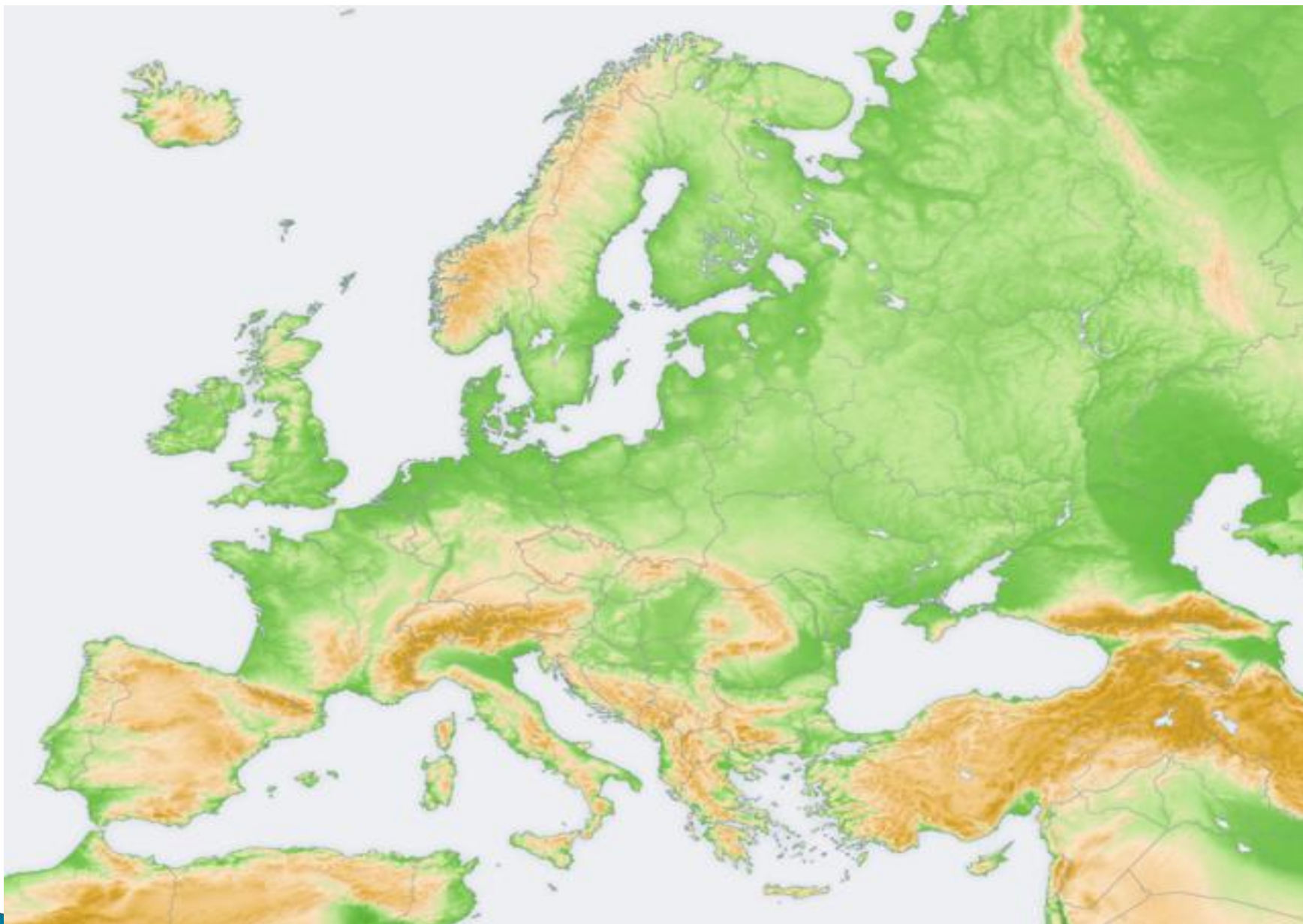


INVESTICE DO ROZVOJE VZDĚLÁVÁNÍ

# ORIENTACE II


# Variant B

- ▶ do přiložené mapy zaznač pod uvedenými čísli následující pojmy z orientace




[http://cs.wikipedia.org/wiki/Evropa#mediaviewer/Soubor:Europe\\_topography\\_map.png](http://cs.wikipedia.org/wiki/Evropa#mediaviewer/Soubor:Europe_topography_map.png)

1




Apeninský poloostrov

2




Mohan

3




Labe

4




Sardínie

5




Etna

6




Balkánský poloostrov

7




Stará planina

8



Peloponés

9




Ibiza

10




Rhodos

11



Mulhacén

12



Island

13




Dněstr

14




Kaledonské hory

15




Velkopolská nížina

16




Sicílie

17



Ženevské jezero

18



Oněžské jezero jezero

# Vyber správnou odpověď

**Jakému státu patří město Hamar ?**

- A. Norsko
- B. Island
- C. Finsko
- D. Německo



# Jakému státu patří město Borisov ?

- A. Lotyšsko
- B. Bělorusko
- C. Moldavsko
- D. Estonsko

# Jakému státu patří město Dráma ?

- A. Makedonie
- B. Řecko
- C. Albánie
- D. Bulharsko

## Jakému státu patří město Murcia?

- A. Portugalsko
- B. Španělsko
- C. Itálie
- D. Malta

# Zdroje

- ▶ Školní atlas světa, Kartografie Praha, 2012, ISBN 9788073930745
- ▶ [http://cs.wikipedia.org/wiki/Evropa#mediaviewer/Soubor:Europe\\_topography\\_map.png](http://cs.wikipedia.org/wiki/Evropa#mediaviewer/Soubor:Europe_topography_map.png)