

DUM č. 11 v sadě

18. De-3 Poslední Přemyslovci

Autor: Drahomír Hlaváč

Datum: 30.6.2014

Ročník: 2AV

Anotace DUMu: Přemysl Otakar I. Pracovní list

Materiály jsou určeny pro bezplatné používání pro potřeby výuky a vzdělávání na všech typech škol a školských zařízení. Jakékoliv další využití podléhá autorskému zákonu.



INVESTICE DO ROZVOJE VZDĚLÁVÁNÍ

1.) Poznej, o který dokument jde:

Proto my, přihlížejíce k přeslavným službám, které veškerý lid Čechů věrně i oddaně prokazoval císařství římskému a že jejich jasný král Otakar zvláště před ostatními nás zvolil císařem a při naší volbě setrval; i my jej králem ustanovujeme a potvrzujeme České království svobodně a beze všeho vymáhání peněz i obvyklé spravedlnosti dvora našeho jemu i jeho nástupcům na věky propůjčujeme. Chtějíce, aby kdokoliv od nich bude zvolen králem, k nám přijel a náležitým způsobem odznaky královské přijal. Také povolujeme, aby on a jeho nástupcové drželi hranice, které zmíněnému království patří, ať by jakkoli byly odcizeny. Také jemu a jeho dědicům povolujeme právo a moc potvrzovati biskupy království, ...

Ustanovujeme potom z nadbytku naší štědrosti, že řečený král nebo jeho dědicové nejsou povinni choditi na žádný náš sněm, než který bychom svolali do Bamberka nebo do Norinberka...

S tou však výhradou, kdybychom my nebo naši nástupci byli v Římě korunováni, ponecháváme na vůli řečenému králi Otakarovi nebo jeho nástupcům, zda nám pošlou tři sta děnců, nebo zaplatí tři sta hřiven.

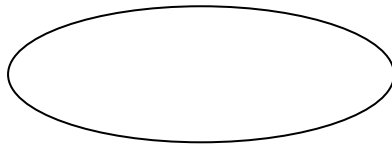
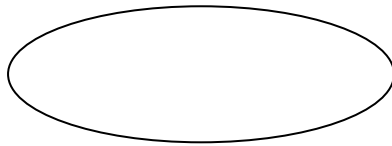
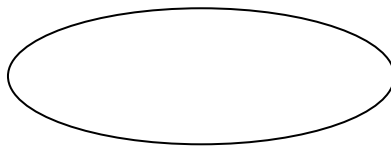
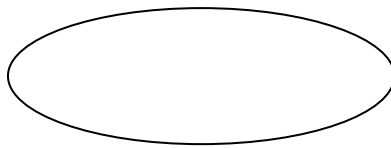

a) Jedná se o dokument zvaný

b) Jaká práva má český král

c) Jaké povinnosti vyplývají z dokumentu pro českého krále

d) Jakým způsobem má probíhat ustanovení českého krále

2. Poznej znaky Českého státu. Které se užívají dnes?

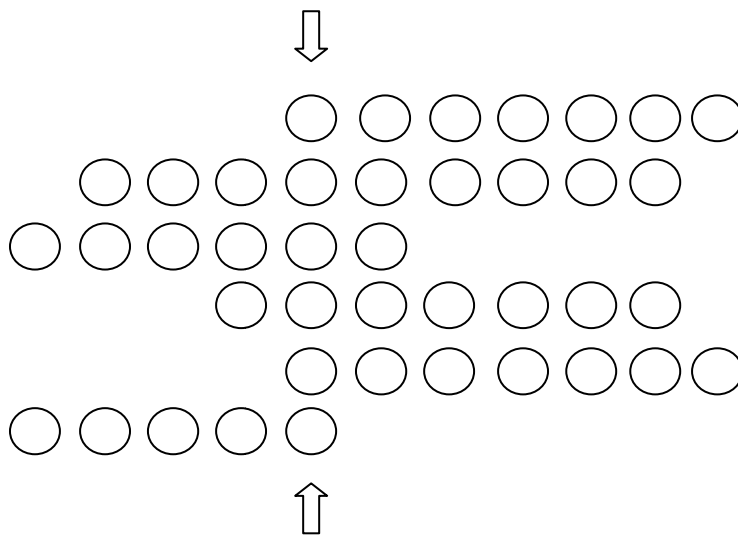


3.) Doplň správně text:

Původním znakem českého knížectví se stala Byla totiž erbem vládnoucího rodu Podle dokladů z pečetí Přemysla Otakara I. a jeho nástupce se znak používá do roku 1253, kdy umírá král O původu českého znaku se na počátku 14. století zmiňuje kronikář

4. Vyřeš tajenku (rod soupeřící o císařskou korunu)

- 1.) Štaufský kandidát na císařský stolec: Filip ...
- 2.) Název listiny potvrzující dědičnost českých králů
- 3.) Přemyslův nejstarší syn
- 4.) Jeden ze sedmi mužů, kteří měli právo volit římského krále
- 5.) Jméno panovníka, který PO I. udělil dědičný královský titul
6. Mocný rod soupeřící o císařskou korunu ve 12. století



5.) Podle předlohy vybarvi znaky Českého státu



Zdroje:

http://cs.wikipedia.org/wiki/Heraldick%C3%A9_znaky_%C4%8Desk%C3%BDch_zem%C3%AD#mediaviewer/Soubor:P%C5%99emyslovci_erb.svg

http://cs.wikipedia.org/wiki/Heraldick%C3%A9_znaky_%C4%8Desk%C3%BDch_zem%C3%AD#mediaviewer/Soubor:Lev_erb_kunhuta.jpg

http://cs.wikipedia.org/wiki/Heraldick%C3%A9_znaky_%C4%8Desk%C3%BDch_zem%C3%AD#mediaviewer/Soubor:Moravia.svg

http://cs.wikipedia.org/wiki/Heraldick%C3%A9_znaky_%C4%8Desk%C3%BDch_zem%C3%AD#mediaviewer/Soubor:Silesia.svg