

## DUM č. 1 v sadě

### 20. Ze-2 Evropa

Autor: Drahomír Hlaváč

Datum: 30.6.2014

Ročník: 2AV, 3AV

Anotace DUMu: Evropa. Obecná charakteristika světadílu Evropa

Materiály jsou určeny pro bezplatné používání pro potřeby výuky a vzdělávání na všech typech škol a školských zařízení. Jakékoliv další využití podléhá autorskému zákonu.



INVESTICE DO ROZVOJE VZDĚLÁVÁNÍ

# EVROPA


## ÚVODNÍ CHARAKTERISTIKA


---





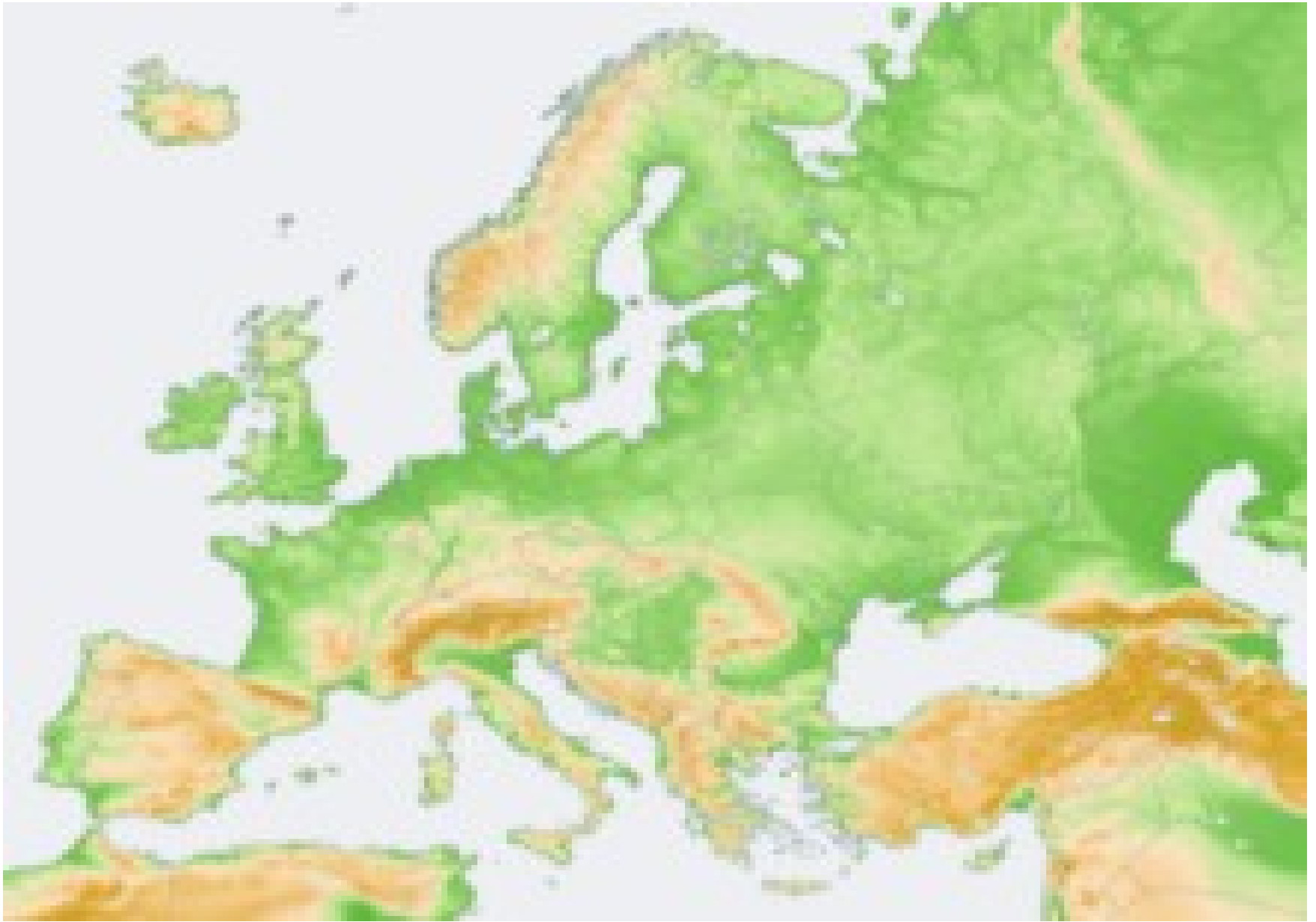
[http://cs.wikipedia.org/wiki/Evropa#mediaviewer/Soubor:Europe  
\\_orodnographic\\_Caucasus\\_Urals\\_boundary.svg](http://cs.wikipedia.org/wiki/Evropa#mediaviewer/Soubor:Europe_orodnographic_Caucasus_Urals_boundary.svg)

- ▶ součástí kontinentu Euroasie
  - ▶ název z asyrského Ereb = Země, kde zapadá Slunce
  - ▶ členitý poloostrov západní Euroasie
  - ▶ největší horizontální členitost ze všech světadílů
- 

- ▶ samostatný světadíl – specifický kulturní a historický vývoj
  - ▶ **antika** – základ evropské civilizace
- 

# Vymezení hranic

- ▶ s pomocí atlasu vyznač na mapě hranici mezi Evropou a Asií
- ▶ Karské moře, východní úpatí pohoří Ural, Emba, Kaspické moře, Kuma, Azovské moře, Kerčský průliv, Černé moře, Bospor, Marmarské moře, Dardaneli



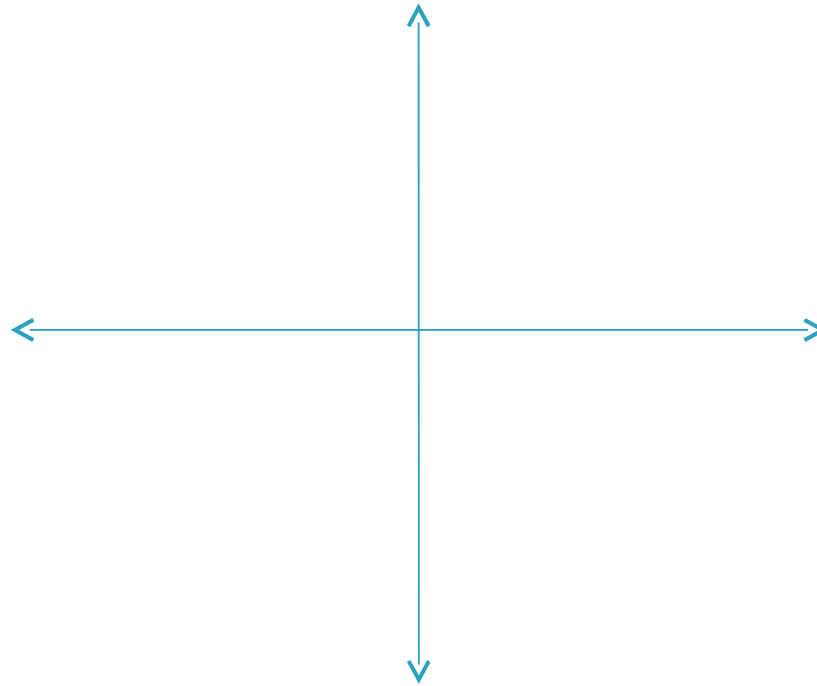
[http://cs.wikipedia.org/wiki/Evropa#mediaviewer/Soubor:Europe\\_topography\\_map.png](http://cs.wikipedia.org/wiki/Evropa#mediaviewer/Soubor:Europe_topography_map.png)

mys Nordkin  $71^{\circ}08' \text{ s.š.}$

mys Roca  $9^{\circ}30'$   
z.d.

úpatí Uralu  $67^{\circ}20'$   
v.d.

mys Marroqui  $35^{\circ}58' \text{ s.š.}$





# Doplňující cvičení

- ▶ S pomocí učebnice a internetu vyhledej a doplň:

ROZLOHA:

POČET OBYVATEL:


POČET NEZÁVISLÝCH STÁTŮ:

# Evropské geografické rekordy – test

**Jaká je nejvyšší činná sopka v Evropě?**

- A. Etna
- B. Askja
- C. Vesuv


**Jaká je nejdelší řeka v Evropě?**

- A. Volha
  - B. Dunaj
  - C. Don
- 

**Ve kterém státě se nejdelší řeka nachází?**

- A. Rusko
- B. Rakousko
- C. Srbsko

**V Rusku se nachází největší jezero Evropy. Jaký je jeho název?**

- A. Saimaa
  - B. Oněžské jezero
  - C. Ladožské jezero
- 

**Mont Blanc je nejvyšší hora Alp. V jaké nadmořské výšce je její nejvyšší vrchol?**

- A. 4326 m.n.m.
- B. 4810 m.n.m.
- C. 5213 m.n.m.

**Rozlohou největší stát v Evropě je:**

- A. Německo
  - B. Polsko
  - C. Rusko
- 

**Největším ostrovem Evropy je:**

A. Velká Británie

B. Grónsko

C. Irsko

# Zdroje

- ▶ Pavel Kantorek, Sylvie Mikulcová, Zeměpis II. v kostce, Fragment, 2008, ISBN 978-80-253-0585-0
- ▶ Jeřábek Milan, Anděl Jiří, Peštová Jana, Kastner Jiří, Zeměpis 8 pro ZŠ a VG UČ, Fraus, ISBN 978-80-7238-517-1
- ▶ Školní atlas světa, Kartografie Praha, 2012, ISBN 9788073930745
- ▶ [http://cs.wikipedia.org/wiki/Evropa#mediaviewer/Soubor:Europe\\_orthographic\\_Cau](http://cs.wikipedia.org/wiki/Evropa#mediaviewer/Soubor:Europe_orthographic_Cau)
- ▶ [http://cs.wikipedia.org/wiki/Evropa#mediaviewer/Soubor:Europe\\_topography\\_map](http://cs.wikipedia.org/wiki/Evropa#mediaviewer/Soubor:Europe_topography_map)