

## DUM č. 6 v sadě

### 20. Ze-2 Evropa

Autor: Drahomír Hlaváč

Datum: 30.6.2014

Ročník: 2AV, 3AV


Anotace DUMu: Evropa. Hospodářství.


Materiály jsou určeny pro bezplatné používání pro potřeby výuky a vzdělávání na všech typech škol a školských zařízení. Jakékoliv další využití podléhá autorskému zákonu.




INVESTICE DO ROZVOJE VZDĚLÁVÁNÍ

# EVROPA – HOSPODÁŘSTVÍ



- ▶ základním rysem hospodářství Evropy je prohlubující se vzájemná závislost zemí
  - ▶ značné rozdíly mezi vyspělými a postkomunistickými zeměmi
  - ▶ velká úloha EU
- 

# Zemědělství

- ▶ vysoká úroveň zemědělství ve vyspělých zemích
  - ▶ vysoký stupeň mechanizace a chemizace
  - ▶ v Evropě je rozvinuto pět hlavních typů zemědělství
- 

## 1.) Středomořské zemědělství

– subtropické ovoce, olivy, tabák, vinná réva, chov ovcí a koz  
Itálie, Španělsko

## 2.) Intenzivní obilnářství

– pšenice, ječmen, kukuřice  
Pařížská pánev, Akvitánská nížina  
(Francie)

### 3.) Intenzivní smíšené zemědělství

- obilnářství, zahradnictví, chov prasat  
Nizozemsko, Dánsko

### 4.) Živočišná výroba zaměřená na mléčné výrobky

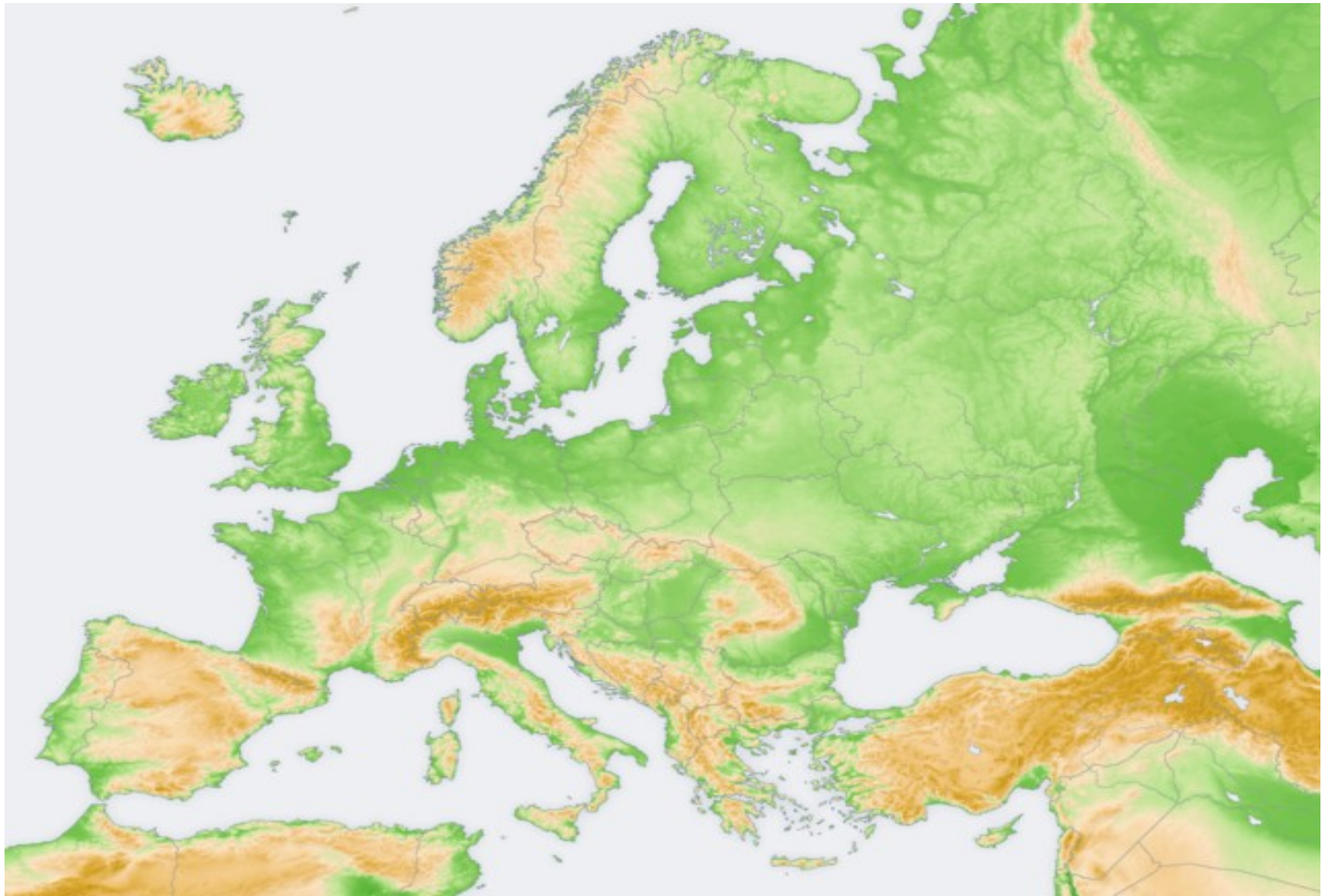
- pobřeží Severního moře, Alpské země

### 5.) Východoevropské extenzivní zemědělství

- v řídké osídlených oblastí  
Rusko, Ukrajina, Bělorusko

# Nerostné suroviny

- ▶ Do přiložené mapky s pomocí atlasu vyznač smluvenými značkami nejvýznamnější evropská naleziště:
  - 1.) ropy a zemní plyn
  - 2.) železná ruda
  - 3.) uran
  - 4.) nikl



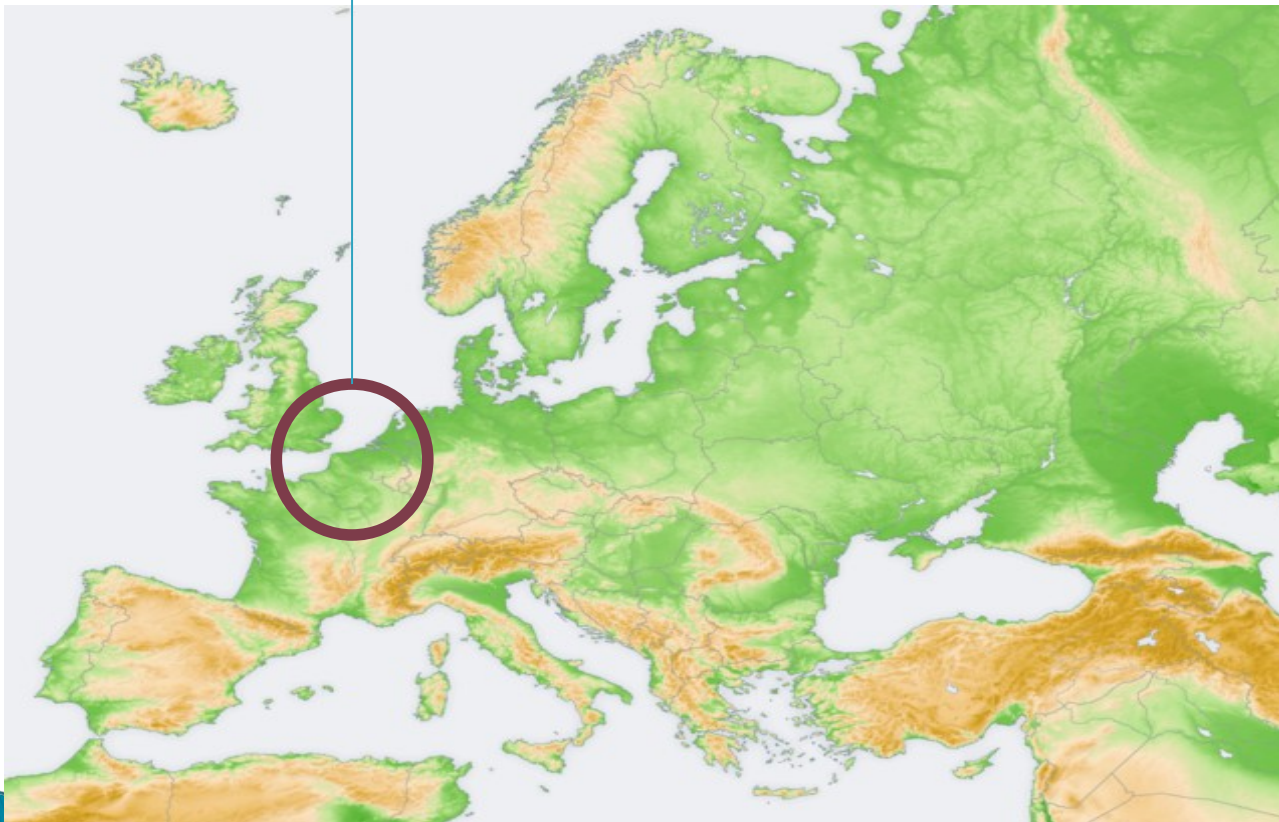
[http://cs.wikipedia.org/wiki/Evropa#mediaviewer/Soubor:Europe\\_topography\\_map.png](http://cs.wikipedia.org/wiki/Evropa#mediaviewer/Soubor:Europe_topography_map.png)



# Průmysl


- ▶ Více než polovina průmyslu se soustředuje v západoevropské oblasti (Anglie, sever Francie, Belgie, Nizozemsko, Porýní a Porúří v Německu).
- ▶ Řada výrob přesunuta do dovozních přístavů.
- ▶ Omezování těžkého průmyslu a přechod na specializovaná odvětví (elektronika, přesné strojírenství aj.).

Nejprůmyslovější část Evropy.  
Které státy zahrnuje?



- ▶ Nejdynamičtější rozvoj zaznamenává **strojírenský a chemický průmysl**
- ▶ Tato průmyslová odvětví jsou náročná na kvalifikovanou lidskou práci

# Strojírenský průmysl

- ▶ Ve strojírenství evropských zemí dominuje elektrotechnika, elektronika a dopravní strojírenství
  - ▶ Největší význam má výroba automobilů
  - ▶ Největší automobilky se nachází v Německu, Itálii, Francii...
- 

K evropským firmám doplň  
stát a čím se zabývá.

IKEA



AUDI



PANASONIC



NOKIA



FIAT



AHOLD



BP  
PETROLEUM



SHELL



# HDP

- ▶ Vyspělost zemí se často posuzuje dle HDP na jednoho obyvatele v paritě kupní síly
- ▶ Dle údajů za rok 2012 mají největší HDP v Evropě **Lichtenštejnsko (89 400 \$)** a **Lucembursko (80 700 \$)**
- ▶ **Hrubý domácí produkt** každoročně sestavuje (i odhaduje) a publikuje několik renomovaných institucí.
- ▶  $HDP = \text{soukromá spotřeba} + \text{hrubé investice} + \text{vládní výdaje} + (\text{vývoz} - \text{dovoz})$

# Zdroje

- ▶ Pavel Kantorek, Sylvie Mikulcová, Zeměpis II. v kostce, Fragment, 2008, ISBN 978-80-253-0585-0
- ▶ Jeřábek Milan, Anděl Jiří, Peštová Jana, Kastner Jiří, Zeměpis 8 pro ZŠ a VG UČ, Fraus, ISBN 978-80-7238-517-1
- ▶ Školní atlas světa, Kartografie Praha, 2012, ISBN 9788073930745
- ▶ [http://cs.wikipedia.org/wiki/Evropa#mediaviewer/Soubor:Europe\\_topography\\_map](http://cs.wikipedia.org/wiki/Evropa#mediaviewer/Soubor:Europe_topography_map)