

USA jméno, příjmení:

datum:

třída:

Doplň základní info:

státní zřízení:

vznik:

rozloha:

nejvyšší bod:

počet obyvatel:

hustota zalidnění: ob. / km2

hlavní město:

největší město:

oficiální jazyk:

v praxi však:

měna:

celkové HDP: . na světě

HDP na obyvatele: . na světě



2. Pojmenuj obrázky a do mapky (nahore) zakresli příslušná písmena.



a) b) c) d) e)



f) g) h) i) j)



k) l) m) n) o)

3. Pojmenuj značky a zhodnoť, jakou roli hrají v ekonomice USA.



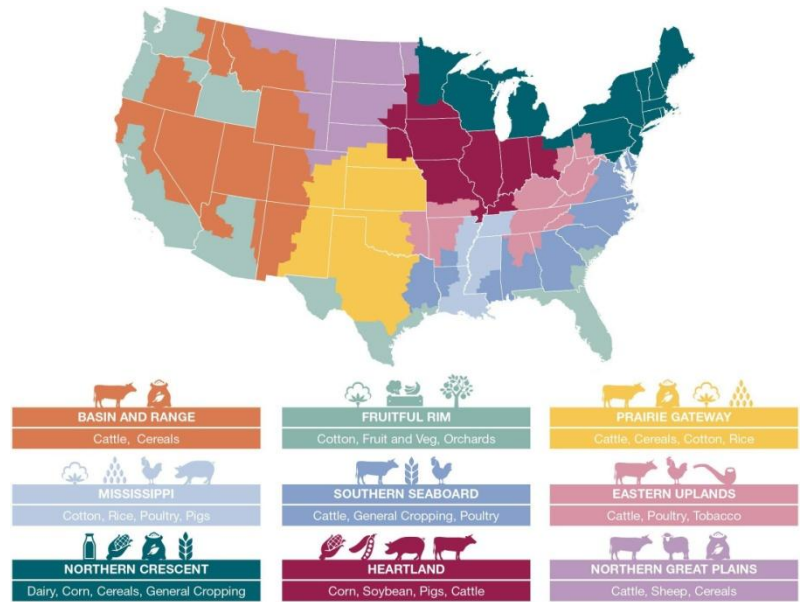
4. Zemědělství – odpověz, vyřeš:

a) Jaké faktory ovlivňují zemědělství v USA?

b) Jaké jsou hlavní plodiny v USA?

c) Popiš živočišnou produkci v USA.

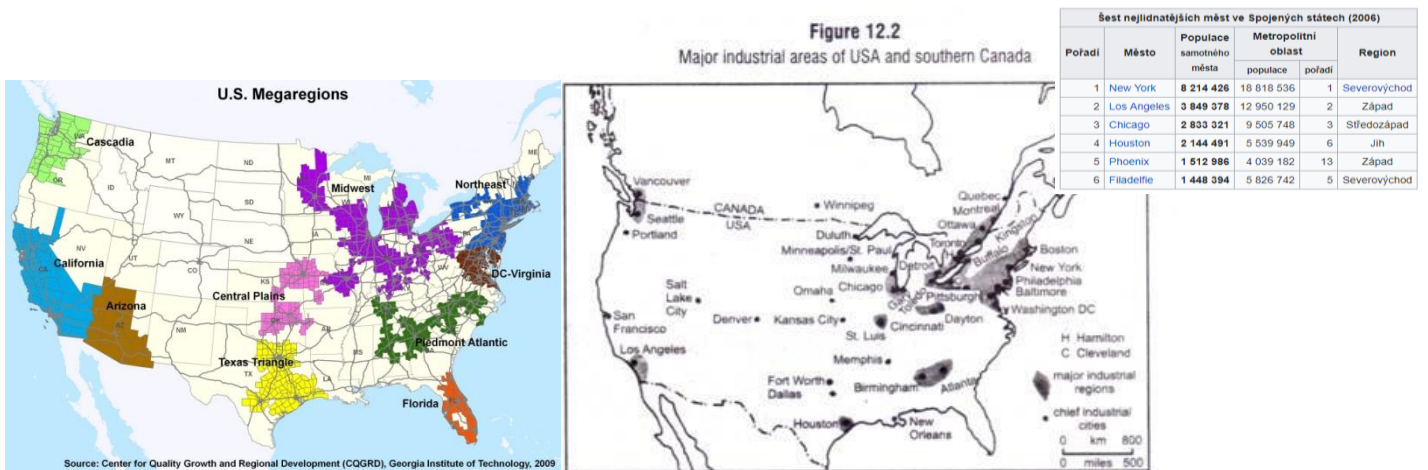
d) Popiš rozdílný přístup ke GMO (geneticky modifikovaným potravinám) v USA a v EU.



5. Obyvatelstvo:

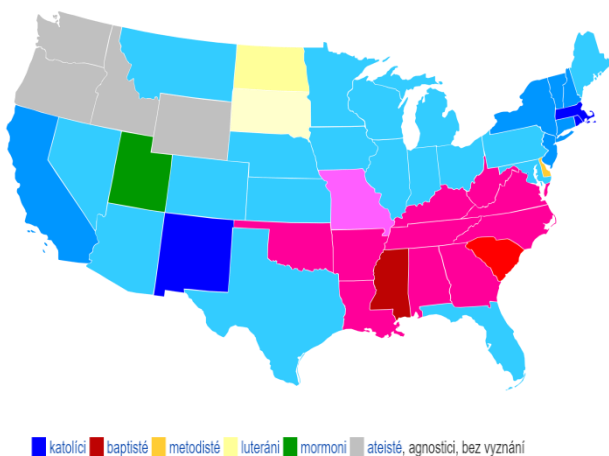
a) v jakých oblastech se v USA nejvíce koncentruje obyvatelstvo? Proč je právě v těchto oblastech?*

b) Zakresli do mapy vpravo šest největších měst USA a tato očíslej dle velikosti.



6. Okomentuj náboženství v USA, využij následující mapu

7. Poznej památky USA:



a)

b)

c)



d)

e)